

Graad 2: Dinsdag, 28 April 2020

Engels	
Phonics: h - sound	Woorde op bl. 9 in Phonics-boekie. Leerders moet die <u>woorde kan skryf</u> en ook weet wat elke woord beteken. Hulle kan <u>mondelings 'n sin maak</u> met elke woord om te wys hulle ken die betekenis van die woord en dan oefen hulle sommer terselfdertyd 'n bietjie om mooi Engels te praat.
Sentence	Skryf die sin op bl. 9 in jou Phonics-boekie uit jou kop uit.
Reading	Leesstuk nommer 10 op bl. 38 van Phonics-boekie. Leerders kan hierdie leesstuk oefen totdat hulle dit vlot kan lees.
Speaking & Vocabulary (Past Tense)	Hierdie aktiwiteit word slegs mondelings gedoen om die leerder aan die konsep bloot te stel. Mamma/Pappa sê 'n sin. Die leerder herhaal die sin, maar moet dit nou met "Yesterday" begin. (Werkvel 6)
Wiskunde	
Tel mondelings	Julle moet elke dag net hardop tel, dit moenie neergeskryf word nie! Tel aan in l'e van 30 – 50. Tel terug in l'e van 110 – 90.
Getalle & bewerkings	Verlede week het ons geleer oor getal 11. Vandag gaan ons 'n paar treintjiesomme doen oor getal 11. (Werkvel 7)
Analoogtyd	Vertel weer vir Mamma/Pappa waar is die lang wysers as ons praat van "uur", "half", "kwart oor" en "kwart voor". Teken nou die wysers in op die horlosie in jou huiswerkflippie om die volgende tye te wys: kwart voor 7 ; half 9 ; kwart oor 2 ; 8 uur ; kwart voor 4 ; half 12 (Gebruik 'n potlood sodat jy kan uitvee of teken met 'n witbordpen bo-op die sakkie sodat jy dit kan afvee.)
Konsep van die dag: Volmaak van 10e	Vandag gaan ons weer 'n bietjie kyk na 'n plan wat ons al in Graad 1 geleer het. Ons noem hierdie plan sommer "Volmaak van tiene" in Graad 2. Gaan kyk 'n bietjie na Werkvel 1 sodat jy meer kan leer oor hierdie plan en doen dan: $9 + 4$; $8 + 6$; $19 + 5$; $8 + 7$ (Werkvel 1)
Lewensvaardigheid	
Motoriek	Kyk hoeveel keer jy 'n bal kan gooi en vang sonder om dit te laat val, eers met 2 hande, dan met jou regterhand en dan met jou linkerhand. (As jy nie 'n bal het nie, frommel sommer 'n ou papier op.)

Graad 2: Woensdag, 29 April 2020

Afrikaans	
Klanke: bl-	Maak saamgestelde woorde en skryf dit neer, bv. koekblik, blomtuin: ge + blaf ; weg + bly ; blaar + slaai ; pot + blou ; ge + bloos ; bloed + rooi ; om + blaai ; dood + bloei ; koek + blik ; blom + tuin
Geheuesin	Ek nooi my maatjie na ons nuwe huis. (Onthou: Jy moet elke dag jou geheuesin neerskryf, net soos wanneer jy dit vir huiswerk gekry het.)
Lees & Skryf	Lees die leesstuk oor slange (Werkvel 8). Verbeel jou nou die slang het toe wel ontsnap! Skryf 'n storie oor wat gebeur het toe die slang ontsnap het.
Taalwerk: Verlede tyd	Hierdie week gaan ons kyk na verlede tyd. Gebruik Werkvel 2 om te leer en te oefen om sinne in die verlede tyd oor te skryf. (Werkvel 2)
Wiskunde	
Tel mondelings	Tel aan in 2's van 100 – 120. Tel terug in 2's van 60 – 40.
Getalle & bewerkings	Geldsomme: $R6.50 + R2.50 =$; $R7 - 50c =$; $R2.20 + R5.50 =$; $R8.50 - 50c =$; $R4 + R2 + 10c + 50c =$; $R10 - R1.50 =$; $R9 - 50c =$ Hoofreken: $23 + 4 =$; $26 - 4 =$; $30 - 3 =$; $22 + 5 =$; $28 + 2 =$; $14 - 1 =$
Woordsom	Daar is 2 seuns en 4 dogtertjies by die partytjie. Elkeen kry 3 lekkers. Hoeveel lekkers moet Mamma koop?
Konsep van die dag: Verdubbel & Halveer	Verlede week het ons geoefen om verdubbel- en halveersomme mooi uit te skryf. Doen nou die volgende somme op daardie metode. <u>Verdubbel:</u> 24 ; 41 ; 35 ; 53 <u>Halveer:</u> 32 ; 54 ; 76 ; 98 (Jy moet nou al 30, 50, 70 en 90 se helfte uit jou kop uit ken. As jy dit nog nie so goed ken nie, gebruik nou die kans om dit te leer. 30→15 ; 50→25 ; 70→35 ; 90→45)
Lewensvaardigheid	
Ontkieming van 'n boontjie	Wat dink julle sal met 'n boontjie gebeur indien ons dit in watter plant? Gesels 'n bietjie met Mamma/Pappa hieroor. As julle dalk 'n boontjie in die huis het, kan julle dit plant en dophou wat elke dag daarmee gebeur. Daar is ook 'n video beskikbaar wat julle kan kyk om julle hiermee te help. (Werkvel 4)

Graad 2: Donderdag, 30 April 2020

Afrikaans	
Klanke: br-	Maak saamgestelde woorde en skryf dit neer, bv. sonbril, afbreek: son + bril ; brak + water ; brul + padda ; af + breek ; broek + sak ; stief + broer ; braai + vleis ; broei + kas ; bruis + meel ; in + bring
Geheuesin	Ek nooi my maatjie na ons nuwe huis.
Lees & Begrip	Lees die leesstuk oor visse en beantwoord dan die vrae wat daarop volg. (Werkvel 5)
Taalwerk: Verlede tyd	Gister het ons geleer oor verlede tyd. Skryf die sinne op Werkvel 3 oor in die verlede tyd. (Werkvel 3)
Klanketoets & Phonics test	Vra vir Mamma/Pappa om vir jou enige woorde te vra uit die woorde wat ons hierdie week geoefen het. Hulle kan sommer 5 Afrikaanse woorde en 5 Engelse woorde vra vandag. Kyk of jy volpunte kan kry vir jou toetsie. Onthou van die geheuesin en die Engelse sin!
Wiskunde	
Tel mondelings	Tel aan in 5'e van 5 – 65. Tel terug in 5'e van 120 – 85.
Patrone	Voltooi die volgende getalpatrone: 44 42 40 __ __ __ ; 11 21 31 __ __ __ ; 80 70 60 __ __ __ ; 35 40 45 __ __ __ ; 19 21 23 __ __ __ ; 113 112 111 __ __ __ ; 33 38 43 __ __ __
Woordsom	46 ballonne word opgeblaas. Die helfte bars. Hoeveel ballonne is oor?
Tangramme	Bou die volgende prentjies met jou tangram: nommer 37, 34, 21
Konsep van die dag: Waarde	Waarde beteken "Hoeveel is elke getal werd?" Jy kan jou flardkaarte gebruik om eers die getalle te bou as jy sukkel met hierdie konsep. Wat is die waarde van die onderstreepte syfer in elke getal? (bv. 3 <u>8</u> → 8 ; 1 <u>6</u> → 10): 6 <u>7</u> ; <u>4</u> 5 ; <u>7</u> 9 ; 6 <u>6</u> ; <u>2</u> 8 ; 3 <u>2</u>
Lewensvaardigheid	
Seisoene	Onthou jy nog die name van die 4 seisoene? Watter maande pas by watter seisoene? Vertel vir Mamma/Pappa een feit oor elke seisoen.
Motoriek	Vra vir Mamma/Pappa om vir jou 'n hindernisbaan in die huis te maak, bv: Spring op een been rondom die koffietafel en seil dan onderdeur. Hardloop nou agteruit tot by jou kamer. Dribbel 'n bal tussen die stoele. (As jy 'n springtou het, kan jy ook touspring oefen.)

SKAKELS NA YOUTUBE VIDEOS

Afrikaans:

Verlede tyd:

<https://youtu.be/nsNE8O0LhA4>

Wiskunde:

Volmaak van 10:

<https://youtu.be/q9h4skGoWJ8>

Tyd: kwart voor
kwart oor

https://youtu.be/ot_zEsJWcc

<https://youtu.be/wZZL--jGNWM>

Engels:

The h – sound:

<https://youtu.be/f16S3UPfkp4>

Prepositions:

<https://youtu.be/h19wLvYWmQE>

Lewensvaardighede:

Ontkieming van 'n boontjie: <https://youtu.be/zEOfdGaO5r8>



Onthou:

Jy kan steeds volhou om boeke op jou leeslys te skryf. Die addisionele werkvelle is nie verpligtend nie, maar dit sal tot jou voordeel wees as jy 'n bietjie daarna kyk wanneer jy tyd het. Juffrou verlang na jou en is trots op jou harde werk!

Werkvel I: Volmaak van tiene

Hierdie plan om somme makliker te doen het jy al in Graad I geleer. Ons gaan nou net nog 'n metode leer om dit uit te skryf.

Wat is volmaak van tiene? As jy 'n som kry soos bv. $9 + 3$, kan jy dit vir jousef makliker maak deur die 9 'n 10 te maak. Maar hoe het jy nou die 10 gekry? $9 + 1 = 10$, so dit beteken jy het een by die drie gevat om eers 'n 10 te maak. Nou is daar 2 oor van die 3. Jy moet nou net die 2 by die 10 voeg om die antwoord te kry. $10 + 2 = 12$ so dit beteken $9 + 3 = 12$.

Kom ek wys jou hoe ons dit kan uitskryf:

1. Skryf die som neer en teken soveel kolletjies langsaan soos wat jy moet bytel.	$9 + 3 \ 0 \ 0 \ 0$
2. Maak nou eers die 10 vol. Ons gebruik 'n \rightarrow omdat die som nog nie klaar is nie. Gaan trek die kolletjie dood wat jy gebruik het.	$9 + 3 \ \cancel{0} \ 0 \ 0$ $9 + 1 \rightarrow 10$
3. Jy sien nou daar is nog 2 kolletjies oor wat ons moet bytel. Tel hulle by om die antwoord te kry.	$9 + 3 \ \cancel{0} \ 0 \ 0$ $9 + 1 \rightarrow 10 + 2 = 12$

Ons kan dieselfde doen met 8. Onthou net dan moet ons 2 bysit om die 10 vol te maak, bv. $8 + 5$:

$$8 + 5 \ \cancel{0} \ \cancel{0} \ 0 \ 0 \ 0$$

$$8 + 2 \rightarrow 10 + 3 = 13$$

Nou gaan ek vir jou wys wat om te doen met 19 en met 28:

Ons som is $19 + 5$:	Ons som is $28 + 7$:
$19 + 5 \ \cancel{0} \ 0 \ 0 \ 0 \ 0$	$28 + 7 \ \cancel{0} \ \cancel{0} \ 0 \ 0 \ 0 \ 0 \ 0$
$19 + 1 \rightarrow 20 + 4 = 24$	$28 + 2 \rightarrow 30 + 5 = 35$

Werkvel 2: Verlede tyd

As iets in die verlede tyd geskryf is, beteken dit dit het reeds gebeur. Wanneer jy 'n sin in die verlede tyd moet oorskryf, sal daar altyd "**het**" en "**ge-**" in die sin wees, bv: Ek **het** lekker **gespeel**. Ons **het** koek **geëet**.

Ons gaan sinne op 2 maniere in die verlede tyd skryf. Soms gaan ons met "Gister" begin en soms met 'n ander woord. Hier is voorbeelde.

Skryf oor in die verlede tyd: **Jannie skop die bal.**

1. Gister het Jannie die bal geskop.
2. Jannie het die bal geskop. (Antwoord 1 en 2 is albei korrek.)

Skryf oor in die verlede tyd: **Ons swem baie lekker.**

1. Gister het ons baie lekker geswem.
2. Ons het baie lekker geswem.

Skryf die volgende sinne oor in die verlede tyd. Probeer dit op albei maniere skryf. Die eerste woord van elke sin word vir jou gegee.

1. Biebie lees 'n boek.

Biebie _____

Gister _____

2. Die kat jaag die muis.

Die kat _____

Gister _____

(Doen nog 'n paar voorbeelde mondelings om die begrip vas te lê.)

Werkvel 3: Verlede tyd

Skryf die sinne oor in die verlede tyd. Die eerste woord van die eerste twee sinne is klaar vir jou gegee. By die derde sin kan jy kies met watter woord jy jou sin wil begin.


Jan eet 'n appel. → Gister _____

Jan eet 'n appel. → Jan _____

Sy bak 'n groot koek. → _____

Werkvel 4: Kweek 'n boontjieplant

Kom ons kweek 'n boontjie







Jy benodig:

- 5 Boontjies
- 'n Piering
- Watte
- Water

STAPPE

1. Plaas die boontjies in die watte in die piering.
2. Plaas die piering op 'n vensterbank in die son en hou die watte nat.
3. Kyk oor die volgende twee weke hoe die boontjieplant ontkiem en groei.

Kyk na die prente van die boontjieplant. Wanneer jou plant soos hierdie een lyk, skryf die datum neer.

DATUM _____	
DATUM _____	
DATUM _____	
DATUM _____	

Werkvel 5: Visse

Jaco hou baie van visse. Hy het 'n paar interessante feite oor visse op die internet gekry:

- Visse slaap met oop oë.
- Visse lê hulle eiers in die water.
- Die witdoodshaai is die grootste vis.
- Visse leef in varswater of soutwater.
- Visse het skubbe, vinne en kieuë.
- Visse voel wel pyn.

Visgrappe:

Hoekom is visse so slim?

Hulle woon in skole.

Watter soort vis is die duurste? Goudvisse

As visse op land kon woon, waar sou hulle woon?

In Finland

1. Hoekom is visse so slim?
2. Watter soort visse is die duurste?
3. As visse op land kon woon, waar sou hulle woon?
4. Maak 'n regmerkier by die sinne wat reg is en 'n kruisier by die sinne wat verkeerd is:

Visse leef op land.		Visse leef in water.	
Visse het skubbe, vinne en kieuë.		Visse het vier pote.	
Visse voel wel pyn.		Visse voel nie pyn nie.	
Visse slaap onderstebo.		Visse slaap met hulle oë oop.	
Visse lê hul eiers in die water.		Visse lê hul eiers op land.	
Die sardien is die grootste vis.		Die witdoodshaai is die grootste vis.	

Werkvel 6: Past Tense

Mamma/Pappa sê die sin wat in *"Today"* se kolom staan. Die leerder moet dan probeer om die sin in die verlede tyd te sê.

Today		Yesterday
I am brushing my teeth.		Yesterday I brushed my teeth.
I am kicking the ball.		Yesterday I kicked the ball.
I am walking to school.		Yesterday I walked to school.
We are talking.		Yesterday we talked.
We are dancing outside.		Yesterday we danced outside.
The dog is barking.		Yesterday the dog barked.

Werkvel 7: Treintjiesomme

$11 - 3 - 2 =$	$4 + 4 + \quad = 11$	$11 - 2 - 6 =$
$5 + 5 + \quad = 11$	$11 - 2 - 2 =$	$3 + \quad + 5 = 11$
$11 - 6 - 0 =$	$\quad + 3 + 2 = 11$	$11 - 2 - 0 =$
$9 + \quad + 1 = 11$	$11 - 4 - 3 =$	$\quad + 7 + 2 = 11$
$11 - 1 - 6 =$	$1 + 9 + 1 =$	$\quad - 4 - 3 = 4$

Werkvel 8: Slange

Vlooi het 'n slang skool toe gebring. Wim was baie opgewonde! Dit was 'n baie groot slang, maar die slang was nie gevaarlik nie. Vlooi hou die slang in 'n lang glastenk. Juffrou het vir die klas baie interessante dinge oor slange geleer. Hulle het geleer slange is reptiele. Slange is koudbloedig en moet in die son lê om warm te word. Hulle het ook geleer daar is meer as 2900 verskillende soorte slange in die wêreld. Party van die meisies in die klas was baie bang vir die slang. Wat as hy ontsnap terwyl hulle pouse hou?

ADDISIONELE WERKVEL

I. Taalwerk (na aanleiding van Werkvel 8 se leesstuk):

- I.1 Wat is 'n ander woord vir opgewonde?
- I.2 Wat is die teenoorgestelde van groot?
- I.3 Onderstreep die twee woorde wat rym in elke sin:
 - I.3.1 Is die meisies bang vir die slang?
 - I.3.2 Vet slange kan baie pret hê.
 - I.3.3 'n Reptiel kan oprol soos 'n wiel.
- I.4 Skryf die sinne oor en gebruik die regte leestekens:
 - I.4.1 wim was opgewonde want vlooi het 'n slang gebring
 - I.4.2 het vlooi 'n groot slang skool toe gebring

ADDISIONELE WERKVEL

2. Getalname:

27	
49	
56	
114	
83	
125	

3. Getalsimbole:

drie en tagtig		honderd en twee	
honderd vier en veertig		dertien	
twee en zestig		honderd en ag	
honderd en dertien		neëntien	

4. Geldsomme:

$R4.50 + R1.50 =$	$R2 + R3 + 20c + 10c =$
$R4 - 50c =$	$R10 - R2.50 =$
$R6.50 + R2.20 =$	$R9.50 - R1.10 =$
$R7.50 - 50c =$	$R1.50 + R7.50 =$
$50c + 50c =$	$R4.50 - 50c =$
$R2 + 50c =$	$R1.50 - 50c =$
$R8.50 + 50c =$	$R3 - 50c =$
$R3.50 + R4.50 =$	$R7 - 50c =$

ADDISIONELE WERKVEL

5. Tiene en ene:

Moenie deurmekaar raak met die tiene en ene nie. Jy kan al hierdie somme doen. Gebruik jou flardkaarte of 100-blok as jy sukkel.

$46 + 2 = \underline{\quad}$

$100 - \underline{\quad} = 40$

$85 - 3 = \underline{\quad}$

$76 - 7 = \underline{\quad}$

$63 - 60 = \underline{\quad}$

$30 + \underline{\quad} = 70$

$10 + 10 + \underline{\quad} = 50$

$60 - 10 - \underline{\quad} = 40$

$\underline{\quad} - 30 = 10$

$64 + 20 = \underline{\quad}$

$72 - 10 = \underline{\quad}$

$83 + 20 = \underline{\quad}$

6. Wat is die **waarde** van die onderstreepte syfer in elke getal?






Byvoorbeeld: $\underline{3}9 \rightarrow 9$ (of: $3\underline{9} \rightarrow 9$ ene)

$\underline{3}9 \rightarrow 30$ (of: $3\underline{9} \rightarrow 3$ tiene)

$\underline{9}7 \rightarrow$	$\underline{1}5 \rightarrow$	$10\underline{3} \rightarrow$
$\underline{7}3 \rightarrow$	$\underline{2}6 \rightarrow$	$\underline{3}2 \rightarrow$
$\underline{4}6 \rightarrow$	$\underline{7}1 \rightarrow$	$5\underline{8} \rightarrow$
$\underline{1}23 \rightarrow$	$\underline{1}4 \rightarrow$	$6\underline{9} \rightarrow$

ADDISIONELE WERKVEL

7. Choose a word from the box to complete the sentences:

	on	under	in	behind	in front of
	The ball is _____ the box.				
	The dog is _____ the table.				
	The boy is _____ the tree.				
	The mouse is _____ the box.				
	The bird is _____ the box.				

8. Volmaak van tiene:

VOORBEELD: $29 + 5 \cancel{0} 0 0 0 0$ $29 + 1 \rightarrow 30 + 4 = 34$
$9 + 6$
$28 + 9$
$19 + 4$
$8 + 7$
$18 + 8$

INTERESSANTE FEITE

27 April: Vryheidsdag

Op hierdie dag in 1994 is die heel eerste volledig demokratiese verkiesing in Suid-Afrika gehou en die ou bedeling van apartheid is begrawe. Alle volwassenes van agtien jaar of ouer kon toe hul kruisies gaan trek, ongeag hul ras of kleur. Ná die oorgangtyd is die nuwe grondwet van Suid-Afrika op dieselfde dag in 1997 in werking gestel.

As gevolg van onregverdige rassediskriminasie is Suid-Afrika deur die hele wêreld gestraf en ons moes verander in 'n land waar almal dieselfde regte het. Dit is deur die algemene verkiesing van 27 April 1994 verwesenlik—en daar is gevoel dat hierdie waterskeiding in die Suid-Afrikaanse politiek elke jaar as "Vryheidsdag" gevier moet word.

1 Mei: Werkersdag

Baie lande gedenk op dié dag - wat ook Meidag genoem word - die bydrae van werkers tot die gemeenskap.

Elders was dit ook tradisioneel 'n dag van betogings vir beter lone en werkstoestande. Vanweë die rol wat vakbonde in die Suid-Afrikaanse vryheidstryd gespeel het, is nie dit verbasend dat ons regeerders 1 Mei as Werkersdag gekies het nie.



Hoekom het ons hierdie week net 3 dae skool? Vra vir Mamma/Pappa om in maklike woorde vir jou meer te vertel oor dié 2 vakansiedae. Hier is 'n bietjie inligting om hulle te help as hulle dalk vergeet het.