

ÖDÜLLÜ

ÜCRETSİZ

2,3 ve 4. Sınıflara
TÜRKİYE GENELİ
ONLINE DENEME SINAVI

Başlangıç Tarihi ve Saati:
2 Nisan 2021 10.00

Bitiş Tarihi ve Saati:
4 Nisan 2021 22.00



1 Öğrenciye Tablet

5 Öğrenciye Akıllı Bileklik

En Başarılı İlk 3 Sınıfa Hikaye Seti



Kayıt Ol

Deneme Sınavı, sınav bitiş tarihinden sonra pdf olarak indirilebilecektir.
Deneme bitiş tarihinden itibaren Kazanım Analizli Sonuç Karnesi verilecektir.



CİMRİ ADAM

Bir zamanlar cimri bir adam yaşarmış. Bu adam Öyle cimriymiş ki bir gün bütün mallarını satıp parasıyla altın almış. Bir çuval altını olunca da gidip bir ağacın dibine gömmüş. Ama akli sürekli altınlarındaymış. Onları düşünmekten gözüne uyku girmez olmuş. Yemek yiyemez, su içemez hale gelmiş. Anlayacağınız yemeden içmeden kesilmiş. Gece gündüz demez aklına estiği zaman altınları gömdüğü yere gider, toprağı kazar, altınları dışarı çıkarırmış. Sonra da altınlarını oturur tek tek sayar tekrar yerine gömermiş.

Rastlantı olacak ya bir gün altınları sayarken uzaktan birisi bu durumu görmüş ve bizim cimriyi takip etmeye başlamış. Bakmış ki adam her gün gelip aynı şeyi yapıyor. "Bu adam cimrinin biri" diye düşünmüş.

Bir zaman sonra bizim cimri adam yine ağacın altına gelip toprağı kazmış. Kazmış kazmasına da altınları bir türlü bulamamış. Başlamış ah vah ederek dövünmeye çırpınmaya... Uzun zamandır bizim cimriyi gözetleyen o adam dayanamamış ve cimrinin yanına gelmiş.

Adam:

- Ne var? Ne oldu da böyle ağlıyorsun? Diye sormuş.

Cimri adam cevap vermiş:

- Daha ne olsun? Altınlarım yok olmuş. Hepsi çalınmış! Demiş.

Olan biteni bilen adam:

Altının ha var, ha yok harcamadıktan sonra bir taş al, altın yerine onu göm. Senin için fark etmez demiş. Sonrada altınları kendisine ders vermek için sakladığını söyleyerek cimri adama geri vermiş. Bizim cimri, adamın sözlerinden çok etkilenmiş. O günden sonra cömert biri olmaya karar vermiş ve elinden geldiğince herkese yardımcı olmuş.

❖ *Aşağıdaki soruları metne göre cevaplayalım.*

1. Adam, bizim cimrinin altınlarını neden saklamış?

.....
.....

2. Cimri adam neden ah vah ederek dövünmeye başlamış?

.....
.....

3. Cimri adam malları ile ne yapmış?

.....
.....

❖ *Aşağıdaki kelimelerin anlamlarını sözlükten bulup cümle içinde kullanalım.*

rastlantı

Anlamı:

Cümle:

cömert

Anlamı:

Cümle:

❖ Aşağıdaki kelimelerin son hecesiyle başlayan yeni kelimeler türetelim.

Konser	Sercan	cansız	sızma	masa	salon
Çakır
Mermer
Çanta
Elbise
Defter
Kale
Kumsal

❖ Aşağıdaki kelimeleri zıt anlamlısının yazılı olduğu cümlelerle eşleştirelim.

Eğri	1	Akşam alacaklılar teyzemlerin kapısına dayanmış.
Ödül	2	Bu yaşıma kadar ölü bir kuş bile görmedim.
Borç	3	Kesirleri sayı doğrusunda gösterebiliyorum.
Üvey	4	Öğretmenimiz bize hiç ceza vermiyor.
Diri	5	Pazarda olgunlaşmış elmaları görünce canım çekti.
Ham	6	Televizyondaki amca öz kardeşini arıyormuş.

❖ Aşağıdaki kelimelerin eş anlamlısını bularak cümle içinde kullanalım.



.....



.....

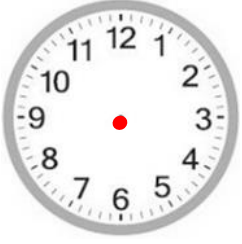


.....



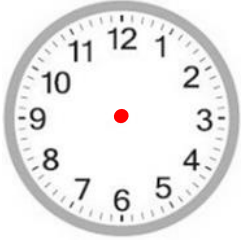
.....

- ❖ Aşağıda öğleden önceki halleri verilen saatlerin öğleden sonraki hallerini yazıp akrep ve yelkovanlarını çizelim.



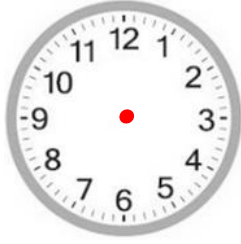
11 : 15

23 : 15



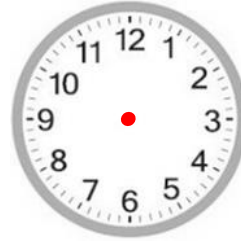
05 : 55

..... :



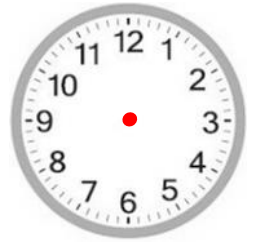
08 : 40

..... :



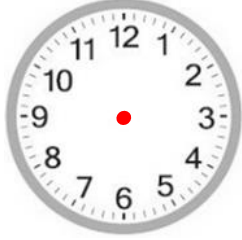
10 : 25

..... :



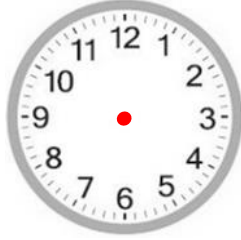
03 : 45

..... :



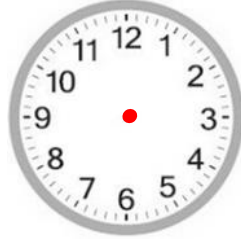
07 : 10

..... :



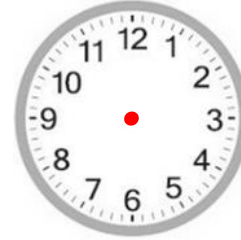
09 : 35

..... :



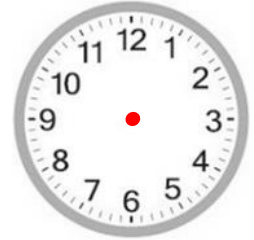
06 : 20

..... :



12 : 25

..... :



01 : 55

..... :

- ❖ Aşağıdaki saatlerin 30 dakika sonraki hallerini karşılarn yazalım.

08 : 45



..... :

18 : 25



..... :

22 : 10



..... :

11 : 15



..... :

13 : 40



..... :

17 : 55



..... :

06 : 30



..... :

09 : 20



..... :

19 : 30



..... :

- ❖ Aşağıdaki saatlerin 30 dakika önceki hallerini karşılarn yazalım.

10 : 15



..... :

06 : 55



..... :

16 : 00



..... :

12 : 05



..... :

12 : 40



..... :

18 : 35



..... :

12 : 30



..... :

10 : 10



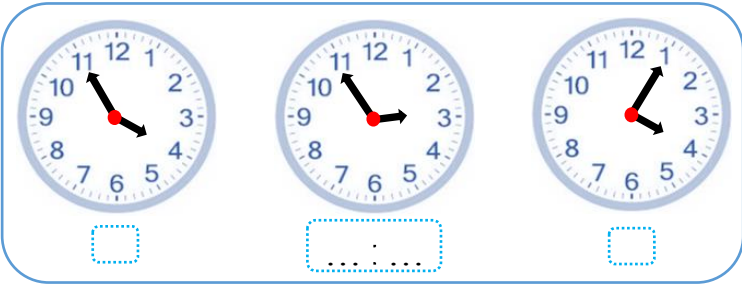
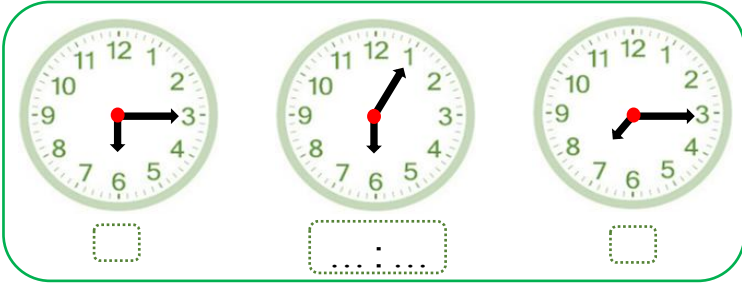
..... :

23 : 45



..... :

- ❖ Ortadaki saatlerin öğleden sonra kaç gösterdiğini altlarına yazalım. 1 saat 10 dakika sonrasını gösteren saatin altına ✓ işareti koyalım.



- ❖ Aşağıda okunuşları verilen saatleri örnekteki gibi yazalım.

Öğleden önce

Öğleden Sonra

07:40

Sekize yirmi var.

21:25

Dokuzu yirmi beş geçiyor.

:

Altıy beş geçiyor.

:

Biri yirmi geçiyor.

:

Beşi yirmi beş geçiyor.

:

İkiye on var.

:

Beşe yirmi beş var.

:

Dokuz yirmi var.

:

Üçü on geçiyor.

:

On biri çeyrek geçiyor.

:

On bire çeyrek var.

:

Altıya beş var.

❖ *Aşağıdaki varlıkları uygun olan gruba yazalım.*



Denizanası



Su



Taş



Dalga



Kurbağa



Zürafa

CANLI VARLIK

.....



Araba

CANSIZ VARLIK

.....



Çiçek

❖ *Aşağıdaki bilgilerden doğru olanlara (D), yanlış olanlara (Y) yazalım.*

- (...) Bazı hayvanlar yumurtlayarak, bazıları da doğurarak çoğalırlar.
 (...) Canlıların ortak özellikleri bazı hayvanlarda bulunmaz.
 (...) Canlı varlıklar yaşamak için ihtiyaç duydukları enerjiyi besinlerden elde ederler.
 (...) Tüm canlılar hareket etme özelliklerini kullanarak yer değiştirebilir.
 (...) İnsanların sırasıyla bebek, çocuk, yetişkin olmaları canlıların büyüme ve gelişme özelliğini anlatır.

❖ *Aşağıdaki soruları cevaplandıralım.*

1. Aşağıdakilerden hangisi tüm canlıların ortak özelliğidir?

- A. Ot yemek
 B. Et yemek
 C. Beslenmek

Canlılar kendilerine benzer varlıklar meydana getirirler.

2. Yukarıdaki cümle canlıların hangi özelliğini ifade etmektedir?

- A. Çoğalma
 B. Büyüme
 C. Solunum yapma

I. Bitkiler kökleriyle suya yönelme hareketi yaparlar.

II. Bitkiler terleme yoluyla boşaltım yaparlar.

III. Bitkiler gövdeleriyle solunum yaparlar.

IV. Bitkiler kendi besinlerini kendileri hazırlar.



3. Yukarıda bitkilerle ilgili verilen bilgilerden hangileri doğrudur?

- A. I, II ve III
 B. I, II ve IV
 C. I, II, III ve IV

❖ *Aşağıdaki boşlukları uygun kelimelerle dolduralım.*

salıncakların

güvenli oyun

yıpranmış

hızlı

kurallara

sokaklar

- Trafikten ve tehlikelerden uzak alanlara..... alanı denir.
- Bisiklet, kaykay ve paten gibi araçları kullanmak tehlikelere yol açar.
- Oyun alanlarındaki bozuk ve oyuncaklar tehlike yaratır.
- Oyun alanlarında güvenli bir şekilde oynamak için uygun hareket etmeliyiz.
- Cadde ve oyun oynamak için güvenli yerler değildir.
- Çocuk parklarındaki önünden ve arkasından geçmek tehlikelidir.

❖ *Aşağıdaki bilgilerden doğru olanlara (D), yanlış olanlara (Y) yazalım.*

- (...) Oyun alanlarında oynarken tanımadığımız kişilerin ikramlarını kabul etmemeliyiz.
- (...) Güvenli oyun alanlarında oynamak bizi tehlikelerden korur.
- (...) Evimizin hemen yanındaki otopark oyun oynamak için güvenli bir alandır.
- (...) Oyun alanlarında güvende olmak için önce kendimiz dikkatli olmalıyız.
- (...) Oyun alanlarında arkadaşlarımızın haklarına saygı duymalıyız.



❖ *Aşağıdaki soruları cevaplayalım.*

1. Aşağıdakilerden hangisi güvenli oyun alanı değildir?

- A. Park
- B. Otopark
- C. Okul bahçesi

2. Aşağıdakilerden hangisi oyun alanlarında yapmamamız gereken bir harekettir?

- A. Yola kaçan topun peşinden koşmak.
- B. Düşen arkadaşımızı kaldırıp yardım etmek.
- C. Tehlikeli hareketler yapan arkadaşlarımızı kibarca uyarmak.

I. Kask

II. Dizlik

III. Dirseklik

3. Yukarıdaki eşyaları hangi aracı kullanırken takmamız gerekmez?

- A. Akülü araba
- B. Paten
- C. Kaykay

4. Aşağıdakilerden hangisi güvenli oyun alanlarındaki kurallardan biridir?

- A. Oyunlarda sıramızın gelmesini beklemek.
- B. Oturağı kırılmış salıncağa ayağımızla basarak binmek.
- C. Bizi uyaran insanlara hayır diyerek bağırarak.