



# PROVA BELÉM

LÍNGUA PORTUGUESA  
E MATEMÁTICA



**CICLO II**  
**2º ANO**

NOME DO(A) ALUNO(A)

# BLOCO 1 - Língua Portuguesa

2

**Aguarde as instruções para iniciar.  
Você terá 25 minutos para responder a este bloco de questões.**

LEIA O TEXTO A SEGUIR E RESPONDA ÀS QUESTÕES 01, 02, 03 E 04.

## A Lenda das Rosas de Natal

Na noite em que Jesus nasceu, uma pequena pastora guardava suas ovelhas quando, de repente, viu três reis magos e alguns pastores caminharem em direção ao lugar onde Jesus estava. Os três reis magos levavam ouro, incenso e mirra para presentear Jesus, enquanto os pastores cantavam lindos louvores.

Depois que os reis e os pastores passaram, a menina ficou muito triste e começou a chorar, pois não tinha presente para dar a Jesus.

Um anjo, ao vê-la tão triste, se aproximou dela e disse:

— Toda essa tristeza merece ser transformada em alegria!

No mesmo momento, as suas lágrimas foram transformadas em lindas rosas brancas. A pequena pastora, imediatamente, colheu as rosas e foi **alegremente** levá-las a Jesus.

Adaptado de: <http://natal.com.pt/lendas-a-rosa-de-natal>

### QUESTÃO 01

Na INTRODUÇÃO da história, a pequena pastora estava

- (A) chorando de tristeza.
- (B) colhendo rosas brancas.
- (C) guardando suas ovelhas.
- (D) levando flores para Jesus.



### QUESTÃO 02

No DESFECHO da história,

- (A) os pastores cantaram lindos louvores.
- (B) a pastora levou rosas para Jesus.
- (C) os reis magos caminharam para o estábulo.
- (D) o anjo se aproximou da pequena pastora.

### QUESTÃO 03

No trecho "... foi **alegremente** levá-las a Jesus" a palavra destacada dá ideia de

- (A) modo.
- (B) lugar.
- (C) tempo.
- (D) negação.

### QUESTÃO 04

A CAUSA da menina ter ficado triste foi o fato de

- (A) estar cansada de pastorear ovelhas.
- (B) sentir inveja da riqueza dos reis magos.
- (C) não gostar de rosas brancas.
- (D) não ter presente para dar a Jesus.

LEIA O **TEXTO 1** E O **TEXTO 2** E RESPONDA ÀS QUESTÕES **05, 06, 07 E 08**

**Texto1**

**Consumismo gera estresse e faz Natal perder o significado**

À medida em que o Natal se aproxima, um caos se espalha por todo o país. A confusão, especialmente nas grandes cidades, ocorre na forma de engarrafamentos, filas nos estacionamentos dos shoppings, supermercados cheios e centros comerciais cheios de gente apressada, irritada e, principalmente, loucas para comprar.

Segundo a psicóloga Suzy Camacho, "o estresse no Natal acaba irritando muito. **Nesta época as pessoas deveriam se preocupar mais com a união e o amor entre todos**", afirma.

Adaptado de:

<http://mulher.uol.com.br/comportamento/noticias/redacao/2012/12/18/para-especialistas-consumismo-gera-estresse-generalizado-e-faz-natal-perder-o-significado.htm>  
18/12/2012

**Texto2**

**Cantata de Natal**

**JESUS,  
O REI DOS REIS!**



**Data: 18/12/13  
Horário: 19 h  
Local: Teatro de Belém**

**QUESTÃO 05**

Ao comparar o **TEXTO 1** com o **TEXTO 2**, pode-se afirmar que

- (A) os dois textos tratam das compras de Natal.
- (B) os dois textos tratam de uma cantata de Natal.
- (C) o **TEXTO 1** trata dos problemas que ocorrem nas cidades, na época do Natal.
- (D) o **TEXTO 2** trata dos presépios como enfeites natalinos.

**QUESTÃO 06**

No **TEXTO 1**, o trecho "...**Nesta época as pessoas deveriam se preocupar mais com a união e o amor entre todos**" é

- (A) um pedido.
- (B) uma opinião.
- (C) uma pergunta.
- (D) um fato.

**QUESTÃO 07**

A finalidade do **TEXTO 2** é

- (A) divulgar.
- (B) instruir.
- (C) narrar.
- (D) convencer.

**QUESTÃO 08**

O **TEXTO 1** e o **TEXTO 2** são, respectivamente,

- (A) poema e cartaz.
- (B) cartaz e receita.
- (C) fábula e notícia.
- (D) notícia e cartaz.

LEIA A HISTÓRIA EM QUADRINHOS E RESPONDA ÀS QUESTÕES 09, 10 E 11



Adaptado de <http://www.monica.com.br/comics/tabloide/tab098.htm>

### QUESTÃO 09

No quadrinho ④, o ponto de interrogação (?) dá o sentido de que Magali

- (A) está fazendo uma pergunta.
- (B) não está entendendo.
- (C) não está nem ligando.
- (D) está zangada com a Mônica.

### QUESTÃO 10

No quadrinho ⑥, o trecho "COMIDA DE VIA VIR ANTES DE PRESENTES!" indica que a Magali está

- (A) dando uma opinião.
- (B) pedindo um favor.
- (C) contando um fato.
- (D) recitando um poema.

### QUESTÃO 11

O quadrinho ⑦ indica que

- (A) as duas nunca mais vão se encontrar.
- (B) Mônica e Magali estão com medo.
- (C) a amizade das duas ficou mais forte.
- (D) Mônica e Magali estão brigando.

## BLOCO 2 - Língua Portuguesa

5

Aguarde as instruções para iniciar.  
Você terá 25 minutos para responder a este bloco de questões.

LEIA O TEXTO A SEGUIR E RESPONDA ÀS QUESTÕES 12, 13, 14 E 15.

### Os amigos e a onça

Dois amigos andavam pela floresta, a caminho da roça, quando deram de cara com uma onça feroz. Eles saíram correndo. Um deles tropeçou e caiu. O outro, sem lhe dar atenção, foi logo subindo em uma árvore.

O homem que estava caído, sabendo que não ia escapar, fingiu-se de morto. A onça farejou-lhe a cabeça e, pensando que ele estivesse morto, foi embora. O homem que estava na árvore desceu e perguntou:

– Amigo, o que a onça cochichou em seu ouvido?

– Ora, ela me disse para ter cuidado com quem abandona o amigo na hora do perigo!

**Moral: na hora do perigo é que percebemos a verdadeira amizade.**

Adaptado de DRUMMOND, Regina. Fábulas de Esopo. São Paulo: Paulus Editora, 1985.



### QUESTÃO 12

A onça desistiu de atacar o homem caído porque

- (A) pensou que ele estivesse morto.
- (B) ficou com pena de machucá-lo.
- (C) recebeu uma paulada na cabeça.
- (D) ele estava sujo e fedorento.

### QUESTÃO 13

O texto TRATA, principalmente, da

- (A) preservação da floresta.
- (B) vida simples na roça.
- (C) verdadeira amizade.
- (D) extinção das onças.

### QUESTÃO 14

Os dois amigos andavam por

- (A) um rio.
- (B) uma floresta.
- (C) uma estrada.
- (D) um vilarejo.

### QUESTÃO 15

O homem que estava caído, ao fingir-se de morto para se salvar, mostrou que era

- (A) brincalhão.
- (B) valentão.
- (C) covarde.
- (D) esperto.

LEIA O TEXTO E RESPONDA ÀS QUESTÕES 16, 17, 18 E 19

### Fotos de família

Joãozinho estava no sofá com seu pai, vendo fotos de sua família, quando se deparou com uma fotografia da sua mãe abraçada com um homem jovem, magro e cabeludo. Imediatamente, correu para a cozinha com a foto na mão e disse:

– Mãe, posso saber quem é esse cabeludo agarrado com a senhora nesta foto?

A mãe olhou para a foto e respondeu:

– Ora, é o seu pai!

– **Peraí!** Então, quem é aquele **cara** barrigudo e careca no sofá da sala?

Adaptado de: Piadas para Crianças 1ª edição, Case Editorial Taboão da Serra-SP (versão digital)

### QUESTÃO 16

No texto, observa-se HUMOR no trecho

- (A) "Joãozinho estava no sofá com seu pai..."
- (B) "Peraí! Então, quem é aquele cara barrigudo e careca no sofá da sala?"
- (C) "Imediatamente, correu para a cozinha com a foto na mão..."
- (D) "A mãe olhou para a foto e respondeu:"

### QUESTÃO 17

As palavras "perai" e "cara" são empregadas normalmente em

- (A) livros científicos.
- (B) tribunais de júri.
- (C) conversas entre amigos.
- (D) palestras médicas.

### QUESTÃO 18

No trecho "Joãozinho estava no sofá com seu pai...", as palavras em destaque dão ideia de

- (A) lugar.
- (B) negação.
- (C) tempo.
- (D) dúvida.

### QUESTÃO 19

A FINALIDADE do texto é

- (A) divulgar.
- (B) convencer.
- (C) instruir.
- (D) divertir.

LEIA O TEXTO E RESPONDA ÀS QUESTÕES 20, 21 E 22

### História do Papai Noel

Papai Noel é um personagem, de **fama internacional**, criado pelo alemão Nicolau Taumaturgo. Ele possui barba branca, usa roupa vermelha e tem vários duendes como ajudantes. Eles recolhem as cartinhas, com os pedidos das crianças, e entregam ao "bom velhinho". Juntos, então, fabricam presentes para dar àquelas que obedecem aos seus pais durante o ano.



Adaptado de: [www.brasilecola.com/natal/historia-papai-noel.htm](http://www.brasilecola.com/natal/historia-papai-noel.htm)

#### QUESTÃO 20

A expressão "**fama internacional**" quer dizer que Papai Noel

- (A) não é muito conhecido.
- (B) é conhecido somente no Brasil.
- (C) é conhecido no mundo todo.
- (D) não conhece ninguém.

#### QUESTÃO 21

O texto sugere que o Papai Noel é

- (A) justo porque dá presente somente para quem merece.
- (B) malvado porque não dá presente para todas as crianças.
- (C) preguiçoso porque manda os duendes recolherem as cartinhas.
- (D) invejoso porque quer tomar o lugar dos pais das crianças.

#### QUESTÃO 22

No trecho "**Eles** recolhem as cartinhas..." a palavra em destaque refere-se aos

- (A) duendes.
- (B) pedidos.
- (C) presentes.
- (D) pais.

# BLOCO 3 - Matemática

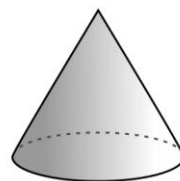
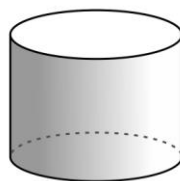

8

Aguarde as instruções para iniciar.  
Você terá 25 minutos para responder a este bloco de questões.

## QUESTÃO 23

Os SÓLIDOS GEOMÉTRICOS, representados nas imagens a seguir, são

- (A) cone, prisma e pirâmide.
- (B) prisma, cilindro e cubo.
- (C) cubo, pirâmide e esfera.
- (D) esfera, cilindro e cone.



## QUESTÃO 24


Os QUADRILÁTEROS que formam a Bandeira do Brasil são

- (A) triângulo e losango.
- (B) losango e retângulo.
- (C) círculo e quadrado.
- (D) retângulo e triângulo




## QUESTÃO 25


Observe a Bandeira de Belém representada na malha a seguir.



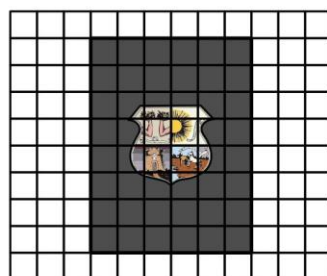
A alternativa que corresponde à AMPLIAÇÃO correta da bandeira é




(A)



(B)



(C)

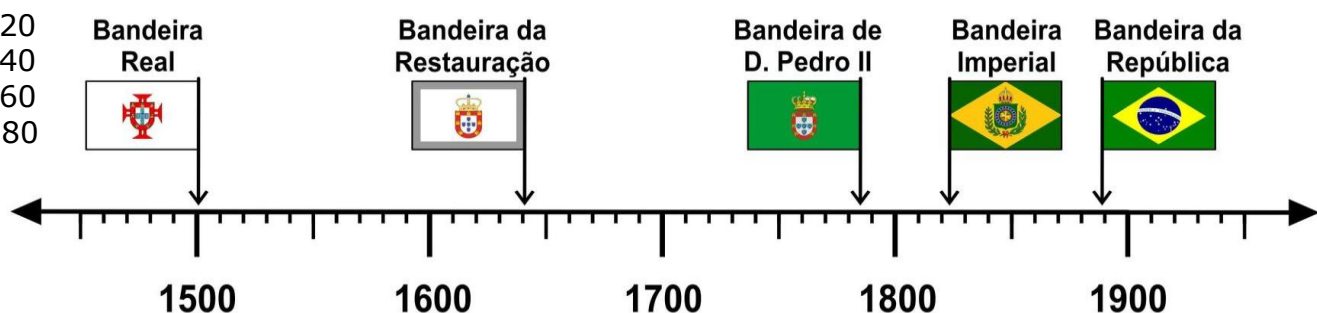


(D)

## QUESTÃO 26

Dependendo do momento histórico, diferentes bandeiras foram utilizadas no Brasil. As setas da imagem a seguir indicam, na reta numerada, o ano de criação de algumas delas. Assim, a **Bandeira da Restauração** foi criada em

- (A) 1620
- (B) 1640
- (C) 1660
- (D) 1680

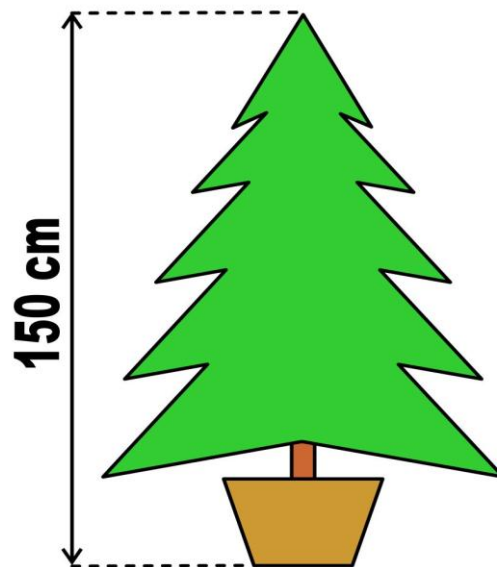




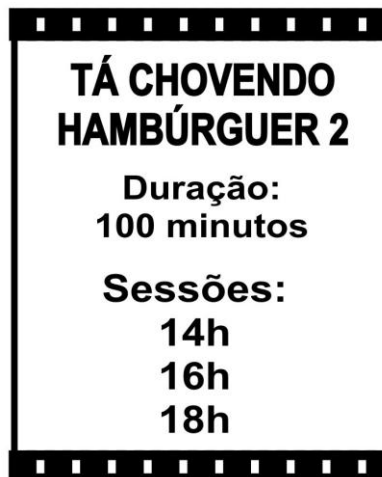
**QUESTÃO 27**

A árvore de Natal, representada na figura ao lado, tem 150 cm de altura. Esta medida, em metros, corresponde a

- (A) 1,5 m
- (B) 2,5 m
- (C) 5 m
- (D) 15 m



LEIA AS INFORMAÇÕES SOBRE O FILME "TÁ CHOVENDO HAMBÚRGUER 2" E RESPONDA ÀS QUESTÕES 28 E 29.

**Cartaz 1****Cartaz 2****QUESTÃO 28**

De acordo com o cartaz 2, a **duração** do filme corresponde a

- (A) 1 hora.
- (B) 1 hora e 10 minutos.
- (C) 1 hora e 40 minutos.
- (D) 2 horas.

**QUESTÃO 29**

O tempo entre o início de uma sessão do filme e o início da sessão seguinte é de

- (A) 1 hora.
- (B) 2 horas.
- (C) 3 horas.
- (D) 4 horas.

O CINEMA OLYMPIA DA CIDADE DE BELÉM, REPRESENTADO NA MALHA QUADRICULADA A SEGUIR, É O MAIS ANTIGO EM ATIVIDADE NO BRASIL. SABENDO QUE A MEDIDA DO LADO DE CADA QUADRÍCULA CORRESPONDE A **1 m**, RESPONDA ÀS QUESTÕES **30** E **31**.

**QUESTÃO 30**


O PERÍMETRO da fachada é

- (A) 32 m
- (B) 36 m
- (C) 37 m
- (D) 39 m

**QUESTÃO 31**

A ÁREA da fachada é


- (A) 61 m<sup>2</sup>
- (B) 62 m<sup>2</sup>
- (C) 63 m<sup>2</sup>
- (D) 64 m<sup>2</sup>



LEIA A INFORMAÇÃO A SEGUIR E RESPONDA ÀS QUESTÕES **32** E **33**.

O Brasão da atual Bandeira de Belém foi criado em **1625**.

Fonte: [www.belem.pa.gov.br](http://www.belem.pa.gov.br)



**QUESTÃO 32**

O número **1625** é formado por

- (A) 16 unidades.
- (B) 16 dezenas.
- (C) 16 centenas.
- (D) 16 milhares.

**QUESTÃO 33**

A alternativa que corresponde a uma decomposição correta do número **1625** é

- (A) 16 milhares e 25 unidades.
- (B) 16 centenas e 25 dezenas.
- (C) 1 centena e 625 dezenas.
- (D) 162 dezenas e 5 unidades.

# BLOCO 4 - Matemática

11

Aguarde as instruções para iniciar.  
Você terá 25 minutos para responder a este bloco de questões.

## QUESTÃO 34

Maria fez a conta de SUBTRAÇÃO a seguir para saber quanto receberia de troco se pagasse, com uma cédula de **R\$ 100,00**, uma guirlanda que custava **R\$ 35,00**. O resultado correto da conta é

- (A) R\$ 65,00
- (B) R\$ 75,00
- (C) R\$ 95,00
- (D) R\$ 135,00



Guirlanda

$$\begin{array}{r} \text{R\$ } 100,00 \\ - \text{R\$ } 35,00 \\ \hline \text{R\$} \end{array}$$

## QUESTÃO 35

Uma comerciante fez a conta de MULTIPLICAR a seguir para saber quantas bolas de Natal havia no estoque de sua loja. Sabendo que no estoque havia 128 pacotes com 6 bolas em cada, o resultado correto da conta é

- (A) 678
- (B) 768
- (C) 876
- (D) 987

$$\begin{array}{r} 128 \\ \times 6 \\ \hline \end{array}$$

## QUESTÃO 36

Lúcia comprou 43 bolas de Natal, 15 anjos e 27 sinos para enfeitar a recepção do prédio em que mora. O total de enfeites natalinos comprados foi

- (A) 75
- (B) 79
- (C) 85
- (D) 87

**BOLA**



**ANJO**



**SINO**



## QUESTÃO 37

O preço da árvore de Natal em uma das lojas do Ver o Peso é R\$ 580,00. Sabendo que este valor pode ser dividido, sem juros, em 5 parcelas iguais, o valor de cada parcela é

- (A) R\$ 103,00
- (B) R\$ 109,00
- (C) R\$ 113,00
- (D) R\$ 116,00

## QUESTÃO 38

Foram consumidos **0,3** de um bolo. Este número decimal corresponde ao número fracionário da alternativa

$$\frac{3}{10}$$

(A)

$$\frac{1}{3}$$

(B)

$$\frac{3}{1}$$

(C)

$$\frac{10}{3}$$

(D)

**QUESTÃO 39**

Observe a imagem a seguir.



O comprimento da fita natalina indicado pela reta numerada é

- (A) 3,0 m
- (B) 3,3 m
- (C) 3,5 m
- (D) 3,7 m

**QUESTÃO 40**

Observe a imagem da lasanha representada ao lado.

A fração que corresponde à parte consumida da lasanha é

$$\frac{1}{2}$$

(A)

$$\frac{1}{3}$$

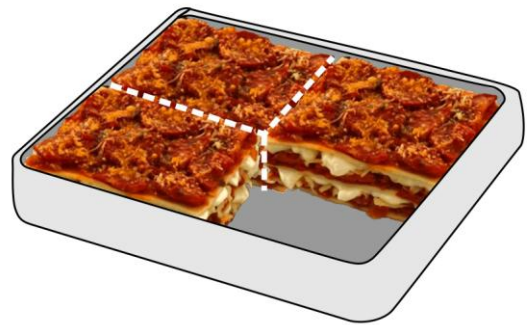
(B)

$$\frac{1}{4}$$

(C)

$$\frac{1}{5}$$

(D)

**QUESTÃO 41**

Na Praça do Relógio, em Belém, a altura do relógio é **11,91 m** e a do poste de iluminação é **8,75 m**. Desta forma, o relógio é **MAIS** alto que o poste

- (A) 3,09 m
- (B) 3,16 m
- (C) 3,19 m
- (D) 3,21 m

**QUESTÃO 42**

Das crianças que compõem o coral representado a seguir, o **PERCENTUAL** que corresponde à quantidade de **MENINAS** é

- (A) 10%
- (B) 25%
- (C) 50%
- (D) 75%



meninos



meninas

**QUESTÃO 43**

Leia na tabela a seguir os preços de alguns enfeites natalinos.

ENFEITE	UNIDADES	PREÇO
Bola de Natal	Caixa com 3	R\$ 39,90
Botinha de feltro	10	R\$ 31,41
Sino	4	R\$ 16,91
Estrela prateada	2	R\$ 17,91
Pisca-pisca	Jogo com 100 lâmpadas	R\$ 44,91

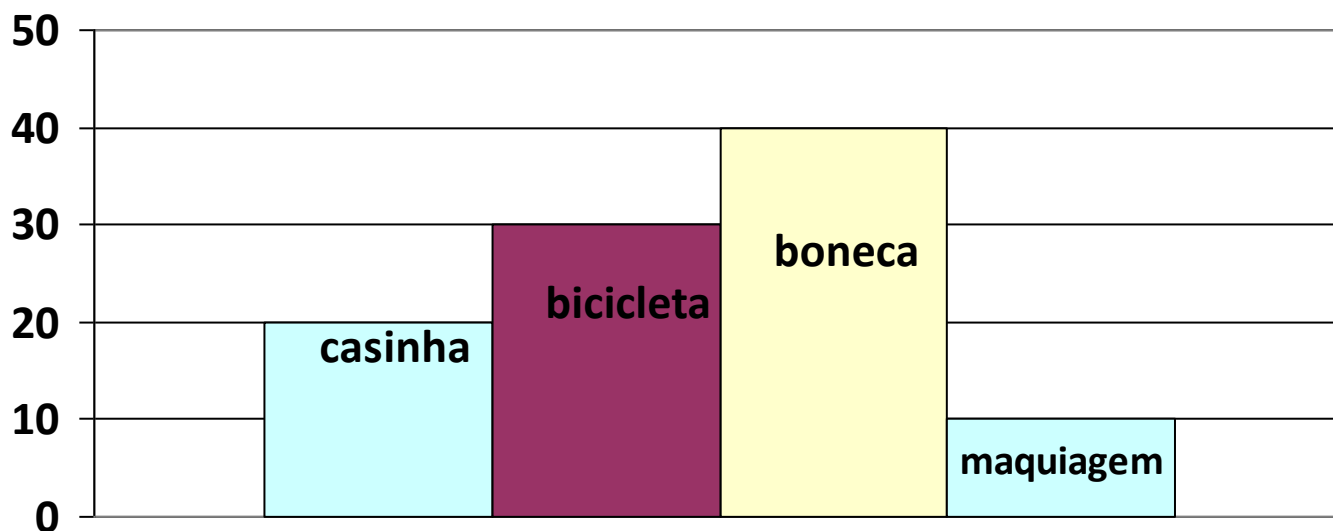
Fonte: [www.americanas.com.br](http://www.americanas.com.br)

Os dois produtos MAIS caros da tabela são

- (A) Bola de natal e pisca-pisca.
- (B) Pisca-pisca e botinha de feltro.
- (C) Sino e bola de Natal.
- (D) Estrela prateada e sino.

**QUESTÃO 44**

O gráfico, a seguir, indica o levantamento dos tipos de brinquedos mais solicitados pelas meninas no período do Natal.



Fonte: <http://www1.folha.uol.com.br/mercado/1020666-veja-precos-dos-brinquedos-mais-pedidos-para-o-natal.shtml>

Os dois brinquedos MAIS solicitados são

- (A) casinha e bicicleta.
- (B) bicicleta e boneca.
- (C) maquiagem e boneca.
- (D) casinha e maquiagem.



# **PROVA BELÉM**

## LÍNGUA PORTUGUESA E MATEMÁTICA

**Prefeitura Municipal de Belém**  
Zenaldo Rodrigues Coutinho Júnior

**Vice Prefeitura Municipal de Belém**  
Karla Martins Dias Barbosa

**Secretaria Municipal de Educação**  
Nelly Cecília Paiva Barreto da Rocha

**Núcleo de Informática Educativa**  
Maria Isabela Faciola Pessôa

**Equipe pedagógica**  
Aderilson José Ribeiro Parente  
Ana Maria Cardoso de Sousa  
Antonio Carlos Sales da Silva  
Dilson dos Santos Aires  
Maria Antonieta Guido da Silva  
Odinéia Lopes da Silva  
Paulo Augusto da Costa Silva  
Regiane da Silva Reinaldo  
Regina Gomes Mascarenhas  
Roberto Araújo Martins  
Simone do Socorro Tindade Ramos  
Jamille Galvão dos Santos

**Equipe de informática**  
Daniel Nascimento Ferreira  
Ivana Mello da Fonseca Aleixo (CINBESA)  
Hugo César do Nascimento Góes  
Jorge da Silva Guimarães

**Organização**  
Antonio Carlos Sales da Silva  
Maria Isabela Faciola Pessôa  
Odinéia Lopes da Silva  
Paulo Augusto da Costa Silva

**Ilustrações**  
Antonio Carlos Sales da Silva

**Apoio logístico**  
Lúcia de Fátima Silva Ericeira  
Maria Mercês Costa  
Vanessa Silva Duarte